

Всероссийская олимпиада школьников 2020-2021 г. История. 6 класс.

Ф.И.

1. Верны ли следующие утверждения («да» – «нет»)? Ответы внесите в таблицу.





- 1) Еврипид считается одним из основателей древнегреческой математики.
- 2) Великая Китайская стена начала строиться в то время, когда существовала Римская республика.
- 3) В рамках древнегреческой колонизации Причерноморья были построены города на территории современной Российской Федерации.
- 4) Солон является одним из основателей древнегреческой демократии.
- 5) К концу I века н. э. Римская империя полностью контролировала территорию современной Германии.
- 6) Фраза «Карфаген должен быть разрушен» характеризует одно из направлений внешней политики Александра Македонского.
- 7) Юлий Цезарь был первым диктатором Рима.
- 8) При Константине Великом христианство было официально разрешено на территории Римской империи.

Ответ.

1	2	3	4	5	6	7	8

Максимум за задание – 16 баллов.

2. Рассмотрите представленные изображения и запишите порядковые номера терминов и понятий, которые связаны с соответствующим изображением. Терминов и понятий дано больше, чем требуется в ответе. Ответ внесите в таблицу – запишите порядковые номера понятий/терминов под буквенными обозначениями соответствующих изображений.

А		Б	
В		Г	

Термины/понятия: 1.гиксосы 2. Луксор 3. Папирус 4 Джосер 5. Шадуф 6. Верхнее и Нижнее царство 7. Эхнатон 8. Гор 9. Александрия 10. Сфинкс 11 Хапи 12 усыпальница 13 Бастет 14Амон-Ра

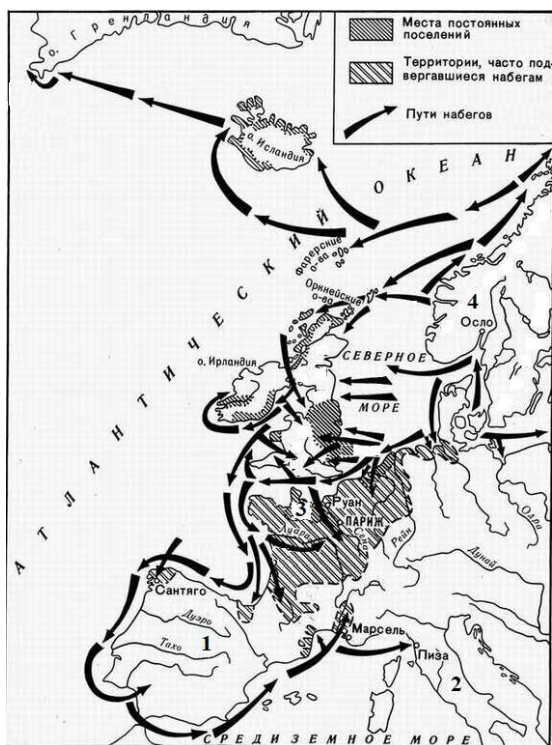
Ответ.

Буквенное обозначение изображения	А	Б	В	Г
Порядковый номер термина/понятия				

Максимум за задание – 14 баллов.

3. Внимательно рассмотрите схему и выполните предложенные задания.

3.1. Напишите в одно слово название скандинавских мореходов, походы которых изображены на схеме **Ответ.** _____



3.2. Выберите три века, когда походы, обозначенные на схеме стрелками, были наиболее активны и многочисленны.

- 1) V век до н. э.
- 2) I век до н. э.
- 3) III век н.э.
- 4) VIII век н.э.
- 5) IX век н.э.
- 6) X век н.э.

Ответ. _____

3.3. В исторической науке существует точка зрения, что один из континентов был открыт неизвестным мореплавателем XV века, а именно в результате деятельности этих мореходов. Укажите название этого континента. Напишите имя и фамилию мореплавателя XV века, которого также считают первооткрывателем этого континента.

Ответ. _____

Максимум за задание – 7 баллов.

4. Верны ли представленные ниже утверждения («да» – «нет») о схеме на предыдущей странице? Ответы внесите в таблицу.

1. На схеме обозначены походы скандинавских мореплавателей. На территории, обозначенной цифрой 3, ими было образовано герцогство Нормандия.
2. На территории, обозначенной цифрой 4, располагалась римская провинция Галлия.
3. На побережье территории, обозначенной цифрой 2, греками были основаны колонии.
4. На территории, обозначенной цифрой 1, существовало государство франков.

Ответ.

1	2	3	4

Максимум за задание – 8 баллов.

Итого за работу.....максимально 45 баллов

